

HOLČÍČKY A KLUCI,

vítáme vás v Království železnic, v největší české modelové železnici. Nabízíme vám zajímavou hru. Na našich modelech si můžete vyzkoušet, jak jste pozorní! Děkujeme za návštěvu a slibujeme, že až k nám přijdete příště, bude naše kolejiště zase o kousek větší.

Odpověz na všechny otázky

1. Na kolejišti číslo 2 vidíš dopravní nehodu vlaku. V případě nehody:

- a) odjedu na nejbližší stanici policie a podám hlášení
- b) raději odjedu pryč
- c) zavolám číslo 155



2. Na kolejišti číslo 3 nastupuje dítě do auta. Zaškrtni, co vždy platí pro jízdu dítěte v autě:

- a) nemusí být připoutané
- b) při jízdě v autě dítě vždy používá sedačku nebo podsedák a je připoutané bezpečnostním pásem
- c) ve městě sedačku a podsedák nepoužívá

3. Uvidím-li tuto dopravní značku (obrázek vpravo), vím, že

- a) budou následovat tramvajové koleje
- b) za 160 metrů bude železniční přejezd
- c) bude následovat prudká zatáčka



4. Na kolejišti číslo 1 vidíš pána, který chce přejít vozovku od pizzerie na autobusovou zastávku. Jak se má správně rozhlédnout před přecházením silnice?

- a) rozhlédne se vpravo
- b) rozhlédne se vlevo, vpravo a zase vlevo
- c) nerozhlédne se



5. Cyklistická přilba je:

- a) je povinná mimo stezky pro cyklisty
- b) je nepovinnou výbavou cyklisty do 18 let
- c) je povinnou výbavou cyklisty do 18 let

6. Na kolejištích se v pravidelně střídá den a noc. Za tmy a snížené viditelnosti mě řidiči dříve uvidí, jestliže mám na sobě:

- a) pestré barevné oblečení a na sobě reflexní doplňky
- b) barevné oblečení
- c) černé oblečení a na sobě reflexní doplňky

7. Při překonávání silnice s jízdním kolem, po přechodu pro chodce, každý starší 10-ti let:

- a) kolo vždy vede, jde vpravo a je ohleduplný k ostatním
- b) na kole může jet
- c) má přednost před chodci a vozidly

8. Nakresli dobravní značku

- a) železniční přejezd se závorami
- b) železniční přejezd bez závor

9. Používat mobilní telefon a sluchátka cyklista během jízdy na kole:

- a) smí při jízdě na cyklostezce
- b) nikdy nesmí
- c) smí, jen když jede pomalu

10. Při jízdě na kole jsem pozorný a spoléhám se:


- a) vždy na sebe a počítám s chybami druhých
- b) na to, že se řidiči vždy chovají podle předpisů
- c) na to, že na mne všichni berou ohled

11. Jestliže provoz na křižovatce řídí policista:

- a) řídím se dopravními značkami
- b) řídím se předností zprava
- c) řídím se jen jeho pokyny

12. Spáruj správně názvy značek s obrázky a značky vybarvi podle skutečnosti.


- a) dej přednost v jízdě
- b) hlavní silnice
- c) zákaz vjezdu jízdních kol
- d) dej přednost v jízdě



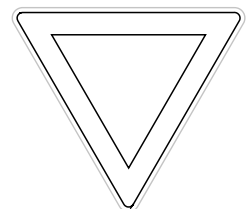
1.



2.



3.



4.